



نام و نام خانوادگی:

زمان برگزاری: ۲۰ دقیقه



نام آزمون: هوش آزمون جامع سری ۲

تاریخ آزمون:

۱ کلمه‌ای که به معنای «نوعی فرش یا گستردنی که از نی یا گیاه دیگری بافته می‌شود، با کدام یک از کلمه‌های زیر از نظر حرف پایان مشترک است؟

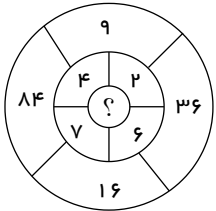
- بیمار ①      روح ②      قرمز ③      ماهی ④

۲ پنج درصد از ۲۰۰۰ معادل ۱۰ درصد از چه عددی است؟

- ۱۰۰۰۰ ①      ۱۰۰۰ ②      ۴۰۰۰ ③      ۴۰۰۰۰ ④

۳ به جای علامت سؤال چه عددی را باید قرار داد؟

- ۲ ①      ۳ ②      ۵ ④      ۴ ③



۴ نسبت پیروز به دیشب مثل نسبت امروز به ..... است.

- دیشب ①      فردا ②      دیروز ③      فرداشب ④

۵ پنج نفر در یک صف ایستاده‌اند، از نفر دوم تا پنجم صف سؤال می‌پرسیم، چند نفر جلوی شما قرار دارند که از شما قدبلندتر هستند، پاسخ‌های آن‌ها به صورت زیر است:

نفر دوم: یک نفر

نفر سوم: دو نفر

نفر چهارم: یک نفر

نفر پنجم: یک نفر

به ترتیب از راست به چپ بلندترین و کوتاهترین صف کدام است؟

- نفر پنجم، نفر سوم ①      نفر اول، نفر دوم ②      نفر اول، نفر سوم ③      نفر پنجم، نفر اول ④

۶ اعداد زیر را در نظر بگیرید. می‌خواهیم کاری کنیم، با قرارگیری این اعداد (همگی این اعداد) در جاهای خالی، بزرگ‌ترین حاصل ممکن ایجاد شود. مجموع ارقام حاصل ایجاد شده، چند است؟

۵, ۰, ۲, ۱, ۶, ۸

$$\square + (\square \div \square) + (\square \times \square) + \square =$$

- ۴ ①      ۱۱ ②      ۱۰ ③      ۱۴ ④

۷ کوشا سعی می‌کرد که درآمد خود را مدیریت کند؛ اما ..... او بر خرید لوازم غیر ضروری او را در مضیقه مالی قرار داد.

- اصرار ①      پیگیری ②      کنترل ③      کوشش ④

۸ کلمه بعدی کدام است؟

«قطر، اردن، تناسب، .....»

- کلمبیا ①      قبرس ②      تداخل ③      شیراز ④



- ۹) می‌خواهیم عبارت زیر را مرتب کنیم تا به متنی منطقی برسیم. کدام جمله دقیقاً در جای خود قرار می‌گیرد و نیازی به جابه‌جایی ندارد؟  
 (۱) از دیدگاه او بهترین قانون اساسی، در حقیقت ترکیبی از قوانین حکومتی و مردمی است.  
 (۲) به گواه متون تاریخی، ارسطو، نخستین کسی است که بین قانون اساسی و قانون عادی تفاوت قائل شد.  
 (۳) قانون اساسی از دیدگاه ارسطو، تبیین‌کننده جایگاه دستگاه‌های دولتی است.  
 (۴) ارسطو در این آثار، مزایا و معایب هریک از قوانین را مشخص می‌کند.  
 (۵) آثار مشهور ارسطو مانند «قانون اساسی آتن» یا «اصول حکومت آتن» به بررسی قانون اساسی آن دوره می‌پردازد.

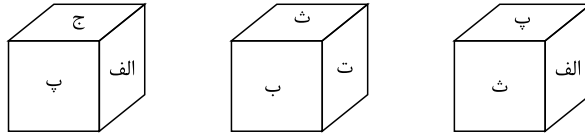
۳ ① ۴ ② ۵ ③ ۲ ④

۱	۲	۵	۴	۳
۱۱	۲۲	۶	۱۵	۱۴
۱۰	۸	۳۳	۵۱	۱۸
۴۴	۱۲	۲۷	۳۵	۴۳
۷۷	۵۲	۶۵	۶۶	۸۸
				۲۰

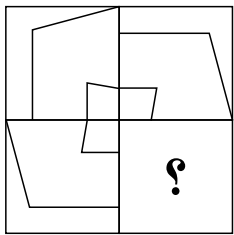
۱۰) کدام عدد، دومین عدد در سمت راست عددی است که دومین عدد در بالای عددی قرار می‌گیرد که چهارمین عدد در سمت چپ عدد ۲۰ است؟

۱۴ ① ۱۵ ② ۱۷ ③ ۵۱ ④

۱۱) در شکل زیر، وجه‌های یک مکعب نام‌گذاری شده‌اند. در هریک از تصاویر، بخشی از مکعب نشان داده شده است. بر اساس روابط موجود بین وجه‌های مکعب، نام وجه مقابل وجهی که با حرف «ث» مشخص شده است، کدام است؟



الف ① ب ② ت ③ ج ④



۱۲) کدام یک از گزینه‌ها، شکل سمت چپ را تکمیل می‌کند؟ (بدون چرخش)

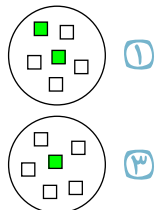
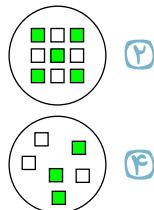
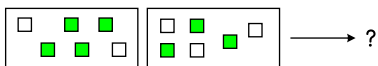
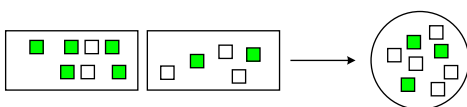


۱۳) میزان درآمد سه خانم به نام‌های کوچک مریم، مهناز و طناز مساوی نیست. نام خانوادگی این سه خانم بدون رعایت ترتیب سعیدی، حیدری و یاری است. می‌دانیم که مهناز از مریم پردرآمدتر نیست. طناز از مهناز پردرآمدتر است؛ اما از مریم پردرآمدتر نیست. سعیدی از حیدری پردرآمدتر است؛ ولی یاری از حیدری پردرآمدتر نیست. نام کامل پردرآمدترین خانم کدام است؟

مهناز حیدری ① طنازیاری ② مریم حیدری ③ مریم سعیدی ④

۱۴) دانش‌آموزانی که دارای قابلیت‌ها و استعداد‌های درخشان هستند، در برابر حل مسائل اساسی و مدیریت تحول آینده کشور، مسئولیت بیشتری بر عهده دارند. آگاهی از این مسئولیت، ایشان را ..... می‌کند که با شناسایی نیازهای کشور و تلاش و پشتکار، شایستگی‌های لازم را برای ..... حداکثری در جامعه به دست بیاورند.

ترغیب - اثرگذاری ① تشویق - اثرپذیری ② ناگزیر - پژوهش ④ مجبور - سیاست‌گذاری ②



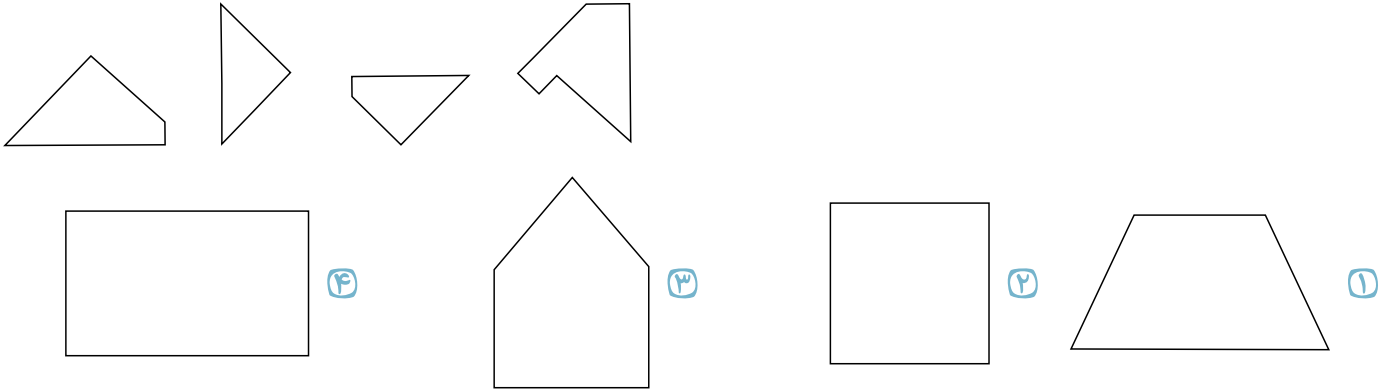
۱۵) به جای علامت سوال، شکل کدام گزینه قرار می‌گیرد؟

۱۶) در کدام گزینه رابطه‌ای معنایی میان واژه‌ها کاملاً با سایر گزینه‌ها متفاوت است؟

شعر، بیت، مصراع ① بدن، دست، انگشت ② دهان، لب، دندان ③ خانه، حیاط، باغچه ④



۱۷) با کنار هم قرار دادن چهار قطعه پلاستیکی داده شده، کدام گزینه را می توان ساخت؟



۱۸) در کدام یک از عبارتهای متن، نادرستی وجود دارد؟

دلفین‌ها حیواناتی بسیار اجتماعی هستند که اغلب به صورت دسته‌ای زندگی می‌کنند (الف) و هر دسته‌ی آن‌ها حدود دوازده عضو دارد. تعداد اعضای دسته‌های دلفین‌ها در مکان‌های مختلف زندگی آن‌های یکسان است. (ب) در مکان‌هایی که فراوانی غذا بیشتر است، ممکن است چند دسته به صورت موقت با هم یکی شوند (ج) و ابردسته‌ای تشکیل دهند که تعداد دلفین‌های آن به هزار تا هم می‌رسد. اگر عضوی از دسته‌ها مجروح شود، دلفین‌های دیگر با او می‌مانند (د) و حتی به او کمک می‌کنند تا برای تنفس به سطح آب بیاید؛ این رفتار آن‌ها بسیار حیرت‌انگیز و جالب است. (ه)

الف ۱) فقط جمله‌ی الف      ب ۲) فقط جمله‌ی ب      ج ۳) هر دو جمله‌ی الف و ب      د ۴) هیچکدام

۱۹) می‌خواهیم میزان برداشت سالانه‌ی یک زمین کشاورزی را محاسبه کنیم. کدام یک از جملات زیر برای محاسبه‌ی این میزان کافی است؟

الف) میزان برداشت ماهانه‌ی زمین ۲۰۰۰ کیلوگرم است.  
ب) میزان برداشت سالانه از هر هکتار ۱۰۰۰ کیلوگرم است.

الف ۱) فقط جمله‌ی الف      ب ۲) فقط جمله‌ی ب      ج ۳) هر دو جمله‌ی الف و ب      د ۴) هیچکدام

۲۰) این کتاب طرفداران زیادی در جهان دارد و هر سال بارها چاپ مجدد می‌شود؛ اما (و) کارشناسان حرفه‌ای این حوزه در نقدهایی که نوشته‌اند، واکنش‌های مثبتی به آن نداشته‌اند.

الف ۱) دارد      ب ۲) می‌شود      ج ۳) نوشته‌اند      د ۴) نداشته‌اند